

Set – B

सत्र– 2019–20  
राज्यस्तरीय आकलन (प्रथम)  
कक्षा – 1  
विषय – गणित

PA

1

माध्यम– हिन्दी / अंग्रेजी

PAPER CODE

--	--	--	--

समय

1 घंटे

पूर्णांक –

1

0

STUDENT ID

--	--	--	--	--	--	--	--	--	--

केन्द्राध्यक्ष

हस्ताक्षर

हस्ताक्षर एवं सील

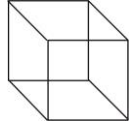




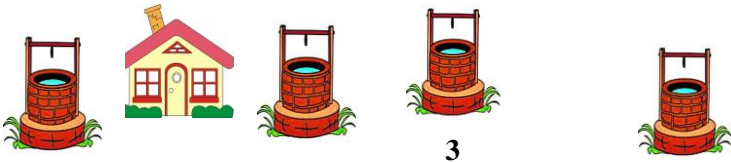
वीक्षक


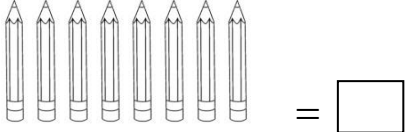
दिनांक :

दिनांक

निर्देश : 1. सभी प्रश्न हल करना अनिवार्य है।

2. सभी प्रश्नों के लिए 2–2 अंक निर्धारित है।

प्र. क्र.	प्रश्न	LOs	अंक	दक्षता स्तर
प्र. 1	<p>दिए गए चित्र जैसी दिखने वाली आकृति कौन–सी है?</p>  <p>(a)  (b)  (c)  (d) </p>	M101	2	L-1
प्र. 2	<p>घर से सबसे अधिक दूरी पर कौन से नम्बर का कुएँ है?</p>  <p>1 2 3 4</p> <p>(a) 1 (b) 2 (c) 3 (d) 4</p>	M101	2	L-2

<p>प्र. 3</p>	<p>डिब्बे में कौन-सी संख्या आयेगी?</p>  <p> <math>\boxed{4} - \boxed{\phantom{00}} = \boxed{2}</math> </p> <p>(a) 2      (b) 4      (c) 6      (d) 8</p>	<p>M102</p>	<p>2</p>	<p>L-1</p>
<p>प्र. 4</p>	<p>गिन कर बताइए डिब्बे में कौन सी संख्या आयेगी?</p>  <p>(a) 6      (b) 7      (c) 8      (d) 9</p>	<p>M102</p>	<p>2</p>	<p>L-1</p>
<p>प्र. 5</p>	<p>डिब्बे में कौन सी संख्या आयेगी ?</p> $\begin{array}{r} 5 \\ +4 \\ \hline \boxed{\phantom{00}} \end{array}$ <p>(a) 1      (b) 4      (c) 5      (d) 9</p>	<p>M102</p>	<p>2</p>	<p>L-2</p>

0000