

प्राथमिक (कक्षा-5) शिक्षा पूर्णता प्रमाण-पत्र परीक्षा 2017

विषय – हिन्दी

समय – 02 घंटे

पूर्णांक – 100

अनुक्रमांक (अंकों में) ..... (शब्दों में) .....

परीक्षार्थी का नाम ..... शाला का नाम .....

हस्ताक्षर निरीक्षक ..... हस्ताक्षर जाँचकर्ता .....

निर्देश :-

1. सभी प्रश्न हल करना अनिवार्य हैं।
2. प्रश्न क्रमांक 1 वस्तुनिष्ठ है। इसके प्रत्येक प्रश्न पर 2 अंक हैं।
3. प्रश्न क्रमांक 2 से 7 तक अति लघुत्तरीय हैं। प्रत्येक प्रश्न पर 4 अंक हैं।
4. प्रश्न क्रमांक 8 से 12 लघुत्तरीय हैं। प्रत्येक प्रश्न पर 6 अंक हैं।
5. प्रश्न क्रमांक 13 एवं 14 भी लघुत्तरीय है। प्रत्येक प्रश्न पर 8 अंक हैं।
6. प्रश्न क्रमांक 15 दीर्घ उत्तरीय है। इस पर 10 अंक हैं।

प्रश्न 1 (क) सही विकल्प चुनकर लिखो।

(अंक –20)

1) कांता ने पत्र लिखा –

(क) मधु को

(ख) मीना को

(ग) मालती को

(ग) गीता को

उत्तर – .....

2) भारतीय सेना के अंग हैं –

(क) चार

(ख) दो

(ग) तीन

(ग) एक

उत्तर – .....

3) बादशाह को मस्जिद का नक्शा दिखाया –

(क) मुबारक खान ने

(ख) आलम खान ने

(ग) बुढिया ने

(ग) मल्लाह ने

उत्तर – .....

4) "स्वतंत्रता मेरा जन्म सिद्ध अधिकार है और मैं उसे लेकर ही रहूँगा।" नारा दिया था –

(क) महात्मा गाँधी ने

(ख) सुभाषचंद्र बोस ने

(ग) भगत सिंह ने

(ग) लोकमान्य बालगंगाधर तिलक ने

उत्तर – .....

5) 'बाबा साहब' प्यार का नाम है –

(क) पं.जवाहरलाल नेहरू का

(ख) डॉ अंबेडकर का

(ग) स्वामी विवेकानंद का

(ग) सरदार वल्लभ भाई पटेल का

उत्तर – .....

(ख) कोष्टक में दिए गए शब्दों में से सही शब्द चुनकर रिक्त स्थानों की पूर्ति करो।

1) राहुल ने .....की पोल खोली।

(रोशन/ढोंगी बाबा)

2) 'बाँछें खिलना' मुहावरे का अर्थ .....है।

(खुश होना/हाथ फैलाना)

3) 'घास' एक ..... शब्द है।

(स्त्रीलिंग/पुल्लिंग)

4) 'उगाना' का तुकांत शब्द ..... है।

(उपज/उठाना)

5) 'छोटी' का विलोम शब्द ..... है।

(बड़ी/लघु)

प्रश्न 2 – निम्नलिखित प्रश्नों में से किसी एक प्रश्न का उत्तर लिखो। (अंक –4)

(क) चारी-चुगरी ल खजरी रोग काबर केहे गे हे ?

(छत्तीसगढ़ी)

(ख) रान नी रले आमचो जीवना ने काय चिपा होयदे ?

(हल्बी)

(ग) भैंस ही नामे लक्षम्मा एंदेर गे उइस ?

(कुँडुख)

(घ) गुप्प तग बात-बात जानवरी मन्ता ?

(गोंडी, दंतेवाड़ा क्षेत्र)

(ङ) पेन्जोड़ मट्टा बद्द मट्टा ता लेहजेर तेवायता ?

(गोंडी कांकेर क्षेत्र)

(च) बुधना अउ सुखना काबर अदालत में गईन ?

(सरगुजिहा)

उत्तर — .....

.....

.....

.....

.....

प्रश्न 3 – सफलता पाने के लिए हमें क्या करना चाहिए ? (अंक –4)

उत्तर — .....

.....

.....

.....

प्रश्न 4 – निम्नलिखित प्रश्नों में से किसी एक प्रश्न का उत्तर लिखो। (अंक –4)

(क) मुसवा ह कउँवा ल मितान काबर नइ बनावँव कहिस ? (छत्तीसगढ़ी)

(ख) तुचो मया चो छाँय ए धनी, चो काय अरथ आय ? (हल्बी)

(ग) मुंशी हीरालालस गे एका तरती सोना ही चंदवा ईनाम चीतरकी रहचा ? (कुँडुख)

(घ) पोदला इर्सकनेद ऊवाद बात ? (गोंडी दंतेवाड़ा क्षेत्र)

(च) माता राजमोहनी ला इंदिरा गांधी पुरस्कार काबर देहीन ? (सरगुजिहा)

उत्तर — .....

.....

.....  
.....

प्रश्न 5 – निम्नलिखित में से किसी एक पद्यांश का अर्थ लिखो। (अंक –4)

हम सबों को सम बनाना चाहते हैं।

अब बराबर पर बिठाना चाहते हैं।

अथवा

असफलता एक चुनौती है, स्वीकार करो,

क्या कमी रह गई, देखो और सुधार करो।

उत्तर – .....

.....  
.....  
.....

प्रश्न 6 – निम्नलिखित गद्यांशों में से किसी एक गद्यांश का सरल शब्दों में अर्थ लिखो।

(अंक –4)

एक तरफ हिमालय की ठिठुराने वाली सर्दी और दूसरी तरफ शरीर को झुलसा देने वाली रेगिस्तानी गर्मी। रेत के तुफानों की परवाह न करते हुए, सेना के वीर सिपाही हरदम चौकस रहकर अपने देश की सीमाओं की रक्षा करते हैं।

अथवा

डॉ. अंबेडकर इसलिए महान हैं क्योंकि उन्होंने छुआछूत के पाप को नष्ट करने का प्रयत्न किया। उनके प्रयत्नों से सभी को कानून में समानता का अधिकार मिला।

उत्तर — .....

.....

.....

.....

प्रश्न 7 — नदी पर पुल न होने से लोगों को क्या-क्या परेशानियाँ होती हैं ? सोचकर लिखो।

(अंक -4)

उत्तर — .....

.....

.....

.....

प्रश्न 8 — मेट्रो रेलवे स्टेशन की क्या विशेषताएँ हैं।

(अंक -6)

अथवा

दिल्ली की सड़कों पर वाहनों की संख्या क्यों बढ़ती जा रही है ?

उत्तर — .....

.....

.....

.....

.....

.....

प्रश्न 9 – (क) तेजस्वी पिता ने प्रधानाध्यापक से अपने पुत्र के संबंध में क्या कहा ?

(अंक –3)

उत्तर – .....

.....

.....

.....

(ख) कवि किस अँधेरे को हटाने की बात कह रहा है ?

(अंक –3)

उत्तर – .....

.....

.....

.....

प्रश्न 10 (क) – बड़ौदा के महाराज ने डॉ. अंबेडकर को क्या सहायता दी ? (अंक –3)

उत्तर – .....

.....

.....

.....

(ख) नौकरी छोड़ने के बाद डॉ. अंबेडकर ने क्या संकल्प लिया ? (अंक –3)

उत्तर – .....

.....

.....

.....

प्रश्न 11 – एक अच्छे सैनिक में कौन-कौन से गुण होते हैं? (अंक –6)

उत्तर – .....

.....

.....

.....

.....

.....

प्रश्न 12 – किसी एक अनुच्छेद में यथा स्थान उचित विराम चिह्न लगाओ। (अंक –6)

सेना के तीन प्रमुख अंगों की सहायता के लिए और भी महत्वपूर्ण इकाइयाँ होती हैं। जो युद्ध के हथियार विभिन्न उपकरण रसद दवाइयाँ कपड़े इत्यादि एक स्थान से दूसरे स्थान तक भेजती हैं।

अथवा

शाह जी अपने आश्रयदाता बीजापुर के सुल्तान के दरबार में जाने की तैयारी कर रहे थे उनके मन में विचार आया क्यों न शिवा को भी आज अपने साथ ले चलूँ।

उत्तर – .....

.....

.....

.....

.....



.....

.....

.....

.....

.....

प्रश्न 13 – निम्नलिखित में से किसी एक अनुच्छेद का सारांश अपने शब्दों में लिखो।

(अंक –8)

दिल्ली की अधिकांश जनता को कामकाज के लिए प्रतिदिन एक स्थान से दूसरे स्थान पर आना-जाना पड़ता है। इसी कारण यहाँ की सड़कों पर बसों और वाहनों की संख्या भी बहुत अधिक हो गई है, जिससे प्रदूषण बढ़ता जा रहा है। इन समस्याओं को हल करने में मेट्रो रेल काफी मददगार होगी।

अथवा

भारतीय सैनिक बहादुरी के लिए जितने विख्यात हैं। अपनी अनुशासनप्रियता के लिए भी उतने ही सराहनीय हैं। सैनिकों के इस अनुशासन से उनके हर काम में गति आ जाती है। जब वे समूह में चलते हैं तो उनका चलना भी देखने योग्य होता है।

उत्तर –

.....

.....

.....

.....

.....

.....

.....

.....

.....

.....

.....

.....

.....

प्रश्न 14 – अपने प्रधान अध्यापक को दो दिनों की छुट्टी के लिए आवेदन पत्र लिखो।

(अंक –8)

अथवा

अपने मित्र अथवा सहेली को अपनी परीक्षा की तैयारी की जानकारी देते हुए एक पत्र लिखो।

उत्तर –

.....

.....

.....

.....

.....

.....

.....

.....

.....

.....

.....

.....

.....

.....

.....

.....

प्रश्न 15 – किसी एक विषय पर निबंध लिखो।

(अंक –10)

हमारी पाठशाला, स्वतंत्रता दिवस, मध्याह्न भोजन

उत्तर –

.....

.....

.....

.....

.....

.....

.....

.....

.....

.....

.....

.....

.....

.....

.....

.....

प्राथमिक (कक्षा-5) शिक्षा पूर्णता प्रमाण-पत्र परीक्षा 2017

**SUBJECT- ENGLISH**

**Time- 2.00 hrs**

**Max. Marks-100**

Q1. Write the correct answer.

(10x2=20)

सही उत्तर चुनकर लिखो।

(A) ..... is a wild animal.

(i) cow (ii) horse (iii) lion

(B) Ayush has ..... umbrella.

(i) a (ii) an (iii) the

(C) Appu went to the .....to buy ink.

(i) school (ii) station (iii) market

(D) Choose the rhyming word for 'cat' .....

(i) bat (ii) chair (iii) desk

(E) You can go ..... you like.

(i) anything (ii) anywhere (iii) anybody

(F) Fish lives in the .....

(i) grass (ii) river (iii) sky

(G) Buses run on the .....

(i) road (ii) water (iii) rail

(H) Aryan is a boy. He ..... Kho-kho.

(i) play (ii) plays (iii) playing

(I) Aashi bought a dozen of .....

(i) milk (ii) bananas (iii) sugar

(j) The small letters of B, D, P, Q are .....

(i) t, g, y, h (ii) b, d, p, q (iii) h, z, j, g

Give answers as per instructions निर्देशानुसार उत्तर दो।

(6X4=24)

Q2. When is Sita's train coming?

Ans. -----  
-----

Q3. What fell from the tree?

Ans. -----  
-----

Q4. Give opposites (any two)

विपरीत अर्थ लिखो। (कोई दो)

- (a) Day .....
- (b) Big .....
- (C) Out .....
- (d) Up .....

Q5. Correct the spellings (any two)

स्पेलिंग सुधारकर लिखो (कोई दो)

- (a) rbbait .....
- (b) itger .....
- (c) orhse .....
- (d) inlo .....

Q6. Read the passage and fill in the blanks (any two)

गद्यांश को पढ़कर खाली स्थानों को भरो (कोई दो)

Ramvati went to the zoo. She saw an elephant and a monkey. The monkey was eating bananas. The elephant was eating sugarcane.

- (a) ..... went to the zoo.
- (b) The monkey was eating .....
- (c) The elephant was eating .....
- (d) Ramvati saw a monkey and an ..... in the zoo.

Q7. Fill in the blanks (any one) खाली स्थान भरो।(कोई एक)

- (a) Raju is a boy. .... is 10 years old.
- (b) Sita is eating an apple. .... is very sweet.

Give answers as per instructions निर्देशानुसार उत्तर दो। (5x6=30)

Q8. Read the given passage and answer the question

दिये गये गद्यांश को पढ़कर प्रश्नों के उत्तर दो।

Kunal went to a temple yesterday. There he saw a puppy in front of the temple. The puppy was playing with some children. The children were throwing a ball and the puppy was bringing it back.

- (a) What did Kunal see at the temple?

Ans. ....  
.....

(b) What was the puppy bringing back?

Ans. ....  
.....

Q9. Use a/an to complete these sentences

खाली स्थान में a/an भरो।

(a) ..... elephant has ..... long trunk.

(b) ..... orange is ..... fruit.

(c) I have ..... pen but I need ..... inkpot.

Q10. Use 'before' and 'after'

खाली स्थान में 'before' o 'after' भरो।

(a) February comes ..... March.

(b) May comes ..... April.

(C) October come ..... September.

Q11. Complete this story using the correct word.

इस कहानी को सही शब्द लिखकर पूरा करो।

There ..... (is/was) a crow. He ..... (was/were) very thirsty. He ..... (see/saw) a pot of water. There ..... (was/is) very little water in the pot. He brought some stones. He ..... (drop/dropped) the stones in the pot. Finally he could ..... (drink/drank) the water.



Q12. Fill in the blanks.

खाली स्थान को भरो।

(a) A tomato is ..... in colour.

(b) The sky is ..... in colour.

(c) A parrot is ..... in colour.

Q13. Read the passage and answer the questions. (1x8=8)

गद्यांश को पढ़कर प्रश्नों के उत्तर लिखो।

A hen was standing near the coconut tree. A nut fell down from the tree, 'Dham!' She said, 'Kut-Kut-Kut-Kutak Koo, the sky is falling! The sky is falling!' and she ran.

(a) Who was standing near the coconut tree?

Ans. ....  
.....

(b) What fell down from the tree?

Ans. ....  
.....

(c) Did the sky really fall?

Ans. ....  
.....

(d) Who said, "The sky is falling"?

Ans. ....  
.....

Q14. Arrange sentence in proper order. (1x8=8)

वाक्यों को सही क्रम में लिखो।

- \* I go to school at 10 0' clock.
- \* I get up at 6 0' clock.
- \* I return home at 4 0' clock.
- \* I take bath at 7 0' clock.

Ans. ....  
.....  
.....  
.....  
.....

Q15. Write 5 lines on any one of the given topics (1x10=10)

- (a) My school (b) My friend (c) Pet animal

Ans. ....  
.....  
.....  
.....  
.....  
.....

प्राथमिक (कक्षा-5) शिक्षा पूर्णता प्रमाण-पत्र परीक्षा 2017

विषय – गणित

समय – 02 घंटे

पूर्णांक – 100

अनुक्रमांक (अंकों में) ..... (शब्दों में) .....

परीक्षार्थी का नाम ..... शाला का नाम .....

हस्ताक्षर निरीक्षक ..... हस्ताक्षर जाँचकर्ता .....

निर्देश :-

1. सभी प्रश्न हल करना अनिवार्य है।
2. प्रश्न क्रमांक 11 से 15 में आंतरिक विकल्प दिए गए हैं।
3. प्रश्नों के लिए निर्धारित अंक उनके सम्मुख अंकित हैं।

प्रश्न 1 (क) – खाली स्थान भरो –

(अंक – 10)

अ) आयत का क्षेत्रफल = .....

ब) 1 रुपया = ..... पैसा

स) पाव किलोग्राम = ..... ग्राम

द) 1 लीटर = ..... मिलीलीटर

ई) 1 रुपये में 50 पैसे के = ..... सिक्के होते हैं।

(ख) सही जोड़ी बनाओ –

(अंक – 10)

(क)	(ख)	उत्तर
भार	मिलीलीटर	.....
धारिता	वर्ग सेण्टीमीटर	.....
समय	सेण्टीमीटर	.....
परिमाण	सेकण्ड	.....
क्षेत्रफल	ग्राम	.....

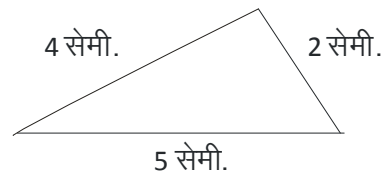
प्रश्न 2 – 7 घंटे 44 मिनट और 1 घंटा 16 मिनट को जोड़ो।

(अंक – 04)

उत्तर –

प्रश्न 3 – त्रिभुज का परिमाप बताओ।

(अंक – 04)



उत्तर –

प्रश्न 4 – 6 घंटे में कितने मिनट होंगे ?

(अंक – 04)

उत्तर –

प्रश्न 5— एक ड्रम में 25 लीटर पानी आता है। बताओ ऐसे ही 7 ड्रमों में कितना पानी आएगा? (अंक – 04)

उत्तर –

प्रश्न 6— सुरजीत के पास 110.25 रुपये थे। उसने 17.50 रुपये की मिठाई खरीदी बताओ उसके पास कितने रुपये बचे ? (अंक – 04)

उत्तर –

प्रश्न 7 – एक पुस्तक की लम्बाई 25 सेमी. और चौड़ाई 20 सेमी. है। पुस्तक का क्षेत्रफल कितना होगा? (अंक – 04)

उत्तर –

प्रश्न 8 – एक बाल्टी 27 मग पानी से पूरी तरह भर जाती है। यदि मग की धारिता 300 मि.ली. हो तो बाल्टी में कितने लीटर पानी आएगा ? (अंक – 06)

उत्तर –

प्रश्न 9 – शंकर की जन्मतिथि 29 अगस्त 2008 है। 31 दिसंबर 2015 को उसकी उम्र कितनी थी ? (अंक – 06)

उत्तर –

प्रश्न 10 – आकृतियों का अगला क्रम क्या होगा ? दिए गए रिक्त स्थान पर चित्र बनाओ।

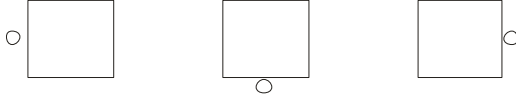
(अंक – 06)

(अ)



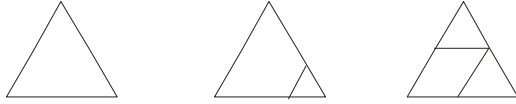
-----

(ब)



-----

(स)



-----

प्रश्न 11 – उस वर्गाकार बगीचे का क्षेत्रफल कितना होगा, जिसकी लम्बाई 55 मीटर है ?

(अंक – 06)

अथवा

एक रंगमंच का क्षेत्रफल 81 वर्ग मीटर है। यदि रंगमंच की लम्बाई 9 मीटर है तो उसकी चौड़ाई बताओ।

उत्तर –

प्रश्न 12 – एक दुकानदार के पास 60 कि.ग्रा. शक्कर है। इससे उसने बराबर तौल के 15 पैकेट बनाए। बताओ प्रत्येक पैकेट में कितनी शक्कर होगी ? (अंक – 06)

अथवा

उत्तर – 5 किलोग्राम मसाले लेकर 250 ग्राम वजन के कितने पैकेट बनाए जा सकेंगे ?

प्रश्न 13 – 3 कॉपियों का मूल्य 43 रुपये 50 पैसे है। 1 कापी का मूल्य कितना होगा ?  
ऐसे ही 6 कापियों का मूल्य भी बताओ। (अंक – 08)

अथवा

उत्तर – सुंदर को प्रतिदिन 63 रुपये 75 पैसे मजदूरी मिलती है तो बताओ एक सप्ताह में उसे कितनी मजदूरी मिलेगी।



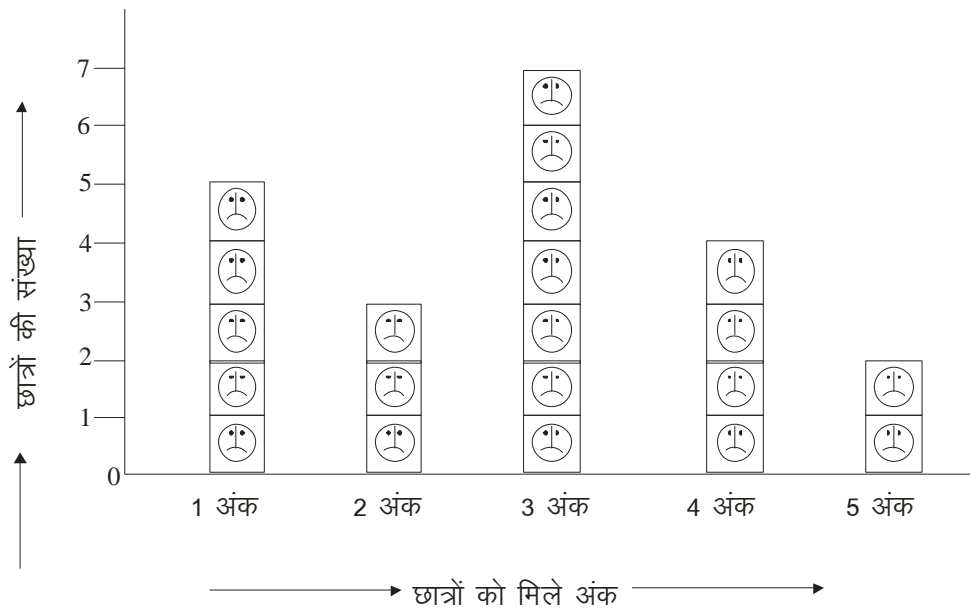
प्रश्न 14 – एक आयताकार मैदान की लंबाई 200 मीटर और चौड़ाई 150 मीटर है। बताओ मैदान का एक चक्कर लगाने में राजू को कितने मीटर दौड़ना पड़ेगा ?  
(अंक – 08)

अथवा

एक वर्गाकार बगीचे की भुजा 250 मीटर है। इसके चारों ओर तार का एक घेरा लगाने के लिए कितने तार की आवश्यकता होगी। यदि 3 घेरे लगाने हों तो कितने तार की आवश्यकता होगी ?

उत्तर –

प्रश्न 15 – गणित की एक जाँच परीक्षा में सम्मिलित छात्रों के प्राप्तांकों का लेखाचित्र देखकर नीचे दिए गए प्रश्नों के उत्तर लिखो ? (अंक – 10)



(क) कुल कितने छात्र परीक्षा में सम्मिलित हुए ?

.....

(ख) एक अंक कितने छात्रों को मिले हैं ?

.....



.....

(ख) लड़कों की संख्या, पुरुषों की संख्या से कितनी कम है ?

.....

(ग) लड़के और लड़कियों की कुल संख्या कितनी है ?

.....

प्राथमिक (कक्षा-5) शिक्षा पूर्णता प्रमाण-पत्र परीक्षा 2017

विषय – पर्यावरण अध्ययन

समय – 02 घंटे

पूर्णांक – 100

अनुक्रमांक (अंकों में) ..... (शब्दों में) .....

परीक्षार्थी का नाम ..... शाला का नाम .....

हस्ताक्षर निरीक्षक ..... हस्ताक्षर जाँचकर्ता .....

निर्देश :- सभी प्रश्न हल करना अनिवार्य है।

प्रश्न 1 सही उत्तर पर (✓) का निशान लगाइए –

(अंक – 20)

(i) दर्पण में देखने पर अक्षर “C” कैसा दिखाई देगा –

(अ) C

(ब) C

(स) C

(द) C

(ii) पसीना निकलता है –

(अ) चमड़ी से

(ब) पेशियों से

(स) हड्डी से

(द) बाल से

(iii) मशीन के कलपुर्जों में तेल डालने पर घर्षण –

(अ) बढ़ेगा

(ब) कम होगा

(स) कोई फर्क नहीं होगा

(द) कभी कम कभी ज्यादा होगा

(iv) रेबीज की बीमारी किसके काटने से होती है –

(अ) घोड़े

(ब) बकरी

(स) चूहा

(द) कुत्ता

(v) कमला की कार का नम्बर CG 04 B 4270 है –यह गाड़ी किस राज्य की है ?

- (अ) छत्तीसगढ़ (ब) मध्यप्रदेश  
(स) महाराष्ट्र (द) कर्नाटक

(vi) फसलों के लिए कौन सी मिट्टी उपजाऊ होती है –

- (अ) रेतीली मिट्टी (ब) चिकनी मिट्टी  
(स) दोमट मिट्टी (द) पीली मिट्टी

(vii) नारियल के बीज का फैलाव होता है –

- (अ) हवा के द्वारा (ब) चिड़िया के द्वारा  
(स) पानी के द्वारा (द) गाय के द्वारा

(viii) कुम्हार बर्तन बनाने के लिए उपयोग करता है –

- (अ) चिकनी मिट्टी (ब) दोमट मिट्टी  
(स) पीली मिट्टी (द) रेतीली मिट्टी

(ix) वीर नारायण सिंह को फांसी की सजा दी गई –

- (अ) बिलासपुर में (ब) सोनाखान में  
(स) रायपुर में (द) हल्दी घाटी में

(x) कम्प्यूटर में लिखी चिट्ठी की छाप कागज ले सकते हैं –

- (अ) सी.पी.यू. से (ब) मॉनिटर से  
(स) स्कैनर से (द) प्रिंटर से

नीचे दिए गए प्रश्नों के उत्तर लिखिए । (अतिलघु उत्तरीय प्रश्न)

(अंक – 24)

प्रश्न 2 – चमड़ी से तुम्हें किन-किन बातों का पता चलता है, कोई चार बातों को लिखिए ?

उत्तर – .....

.....

.....

.....

प्रश्न 3 – गोवा की चार खास बातें जो तुम्हारे राज्य में ना हो, लिखिए ।

उत्तर – .....

.....

.....

.....

प्रश्न 4 – तालागांव के मंदिरों में किस प्रकार के पत्थरों का उपयोग किया गया है ? यहां के मंदिर क्यों प्रसिद्ध हैं ?

उत्तर – .....

.....

.....

.....

प्रश्न 5 – वीर नारायण सिंह ने अकाल के समय जनता के लिए क्या-क्या किया ?

उत्तर – .....

.....

.....

.....

प्रश्न 6 – चलते समय केले के छिलके पर पैर पड़ने से तेजी से फिसल जाते हैं। क्यों?

उत्तर – .....

.....

.....

.....

प्रश्न 7 – बाँस से बनाई जाने वाली कोई चार वस्तुओं के नाम एवं उपयोग लिखिए।

उत्तर – .....

.....

.....

.....



नीचे दिये गए प्रश्नों के उत्तर लिखिए। (लघुउत्तरीय प्रश्न)

(अंक – 30)

प्रश्न 8 – एम्बुलेन्स को अंग्रेजी के अक्षरों में उल्टा लिखा जाता है, क्यों ?

उत्तर – .....

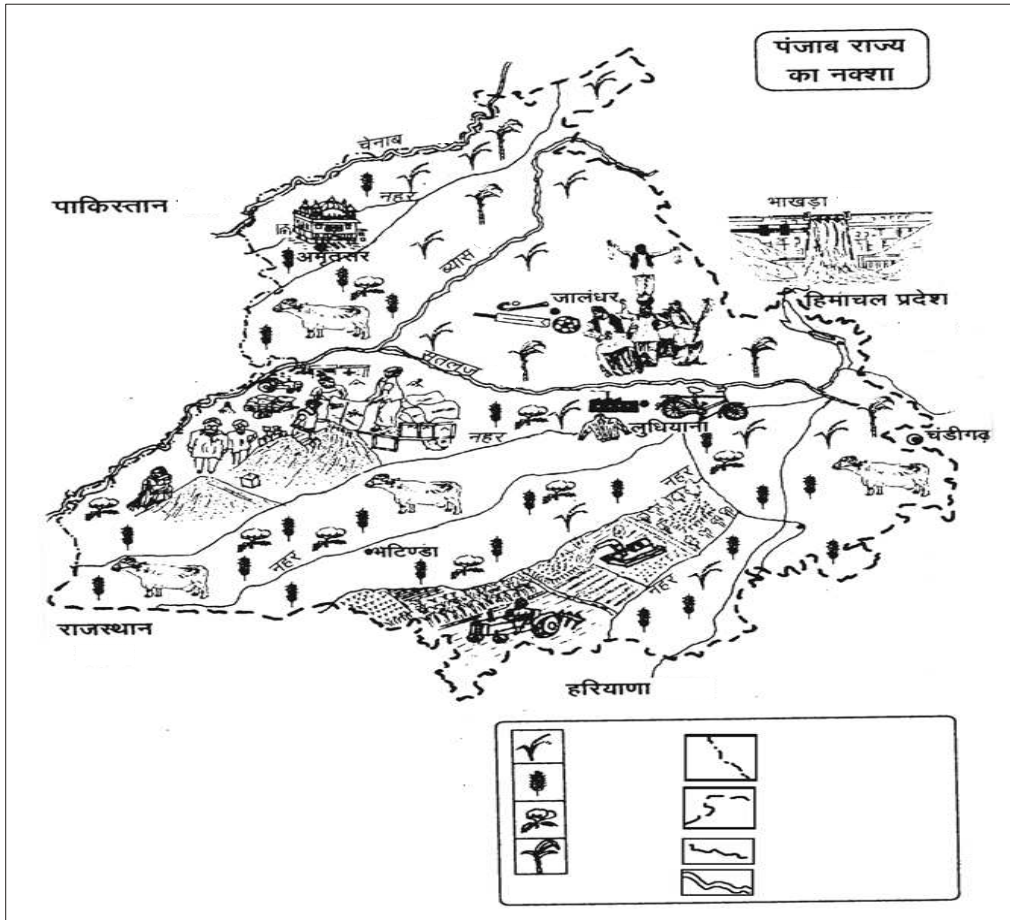
.....

.....

.....

.....

प्रश्न 9 – दिये गये पंजाब राज्य के नक्शों में तीन नदियों के नामों पर गोला बनाइए –



प्रश्न 10 – गोवा के लोग क्या-क्या काम धन्धे करते हैं ?

उत्तर – .....

.....

.....

.....

.....

.....

.....

प्रश्न 11 – कम्प्यूटर का माउस खराब हो जाए तो, हम इसकी जगह किसका उपयोग कर सकते हैं और क्यों ?

उत्तर – .....

.....

.....

.....

.....

.....

.....

प्रश्न 12 – वीर नारायण सिंह को फांसी की सजा क्यों दी गई ?

उत्तर – .....

.....

.....

.....  
.....  
.....

नीचे दिये गए प्रश्नों के उत्तर लिखिए। (लघुउत्तरीय प्रश्न) (अंक –16)

प्रश्न 13 – यदि आपके घर के पास खेलते हुए बच्चे को कुत्ते ने काट लिया तो आप क्या करेंगे ? यदि उसे उपचार नहीं मिले तो कौन से लक्षण दिखाई देंगे ?

अथवा

लुई पाश्चर को प्रसिद्धि क्यों मिली ? वस्तुओं को सड़ने के संबंध में लुई पाश्चर के विचार लिखिए ।

उत्तर – .....

.....

.....

.....

.....

.....

.....

प्रश्न 14 – जानवरों के द्वारा बीज एक स्थान से दूसरे स्थान तक कैसे पहुँच जाते हैं? गोखरू एवं बघनखा के फल का चित्र बनाइए ।

अथवा

फुड़हर के बीज का बिखराव किस प्रकार होता है ? लिखिए। फुड़हर के बीज का चित्र बनाइए ।

चित्र—

उत्तर —

.....

.....

.....

.....

.....

.....

.....

.....

.....

नीचे दिये गए प्रश्न का उत्तर लिखिए। (दीर्घ उत्तरीय प्रश्न) (अंक – 10)

प्रश्न 15 – रेलगाड़ी से यात्रा करते समय हमें कौन-कौन सी सावधानियाँ रखनी चाहिए?

(कोई पाँच)

अथवा

जल परिवहन से होने वाले लाभ लिखिए। (कोई पाँच)

उत्तर –

.....

.....

.....

.....

.....

.....

.....

.....

.....

.....